

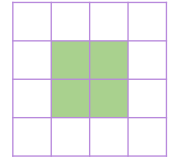


Сурагчийн нэр:

Эхэлсэн: он сар өдөр



Талбайг квадрат дүрсээр хэмждэг.
 Дэвтэрт дүрсийн талбайг 1 см талтай квадрат дүрсээр
 (см.кв нэгжээр) хэмждэг.
 (дөрвөлжин шугамтай дэвтрийн 4 нүд нь 1 см.кв юм.)



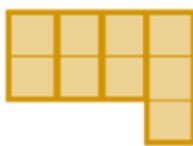
1 а. Дүрс бүрд дөрвөлжин шугамтай дэвтрийн хэдэн нүд байгааг бичээрэй.

А.



(5 нүд)

Б.



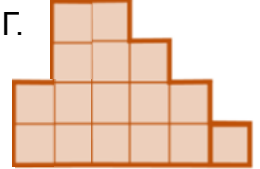
(___ нүд)

В.



(___ нүд)

Г.



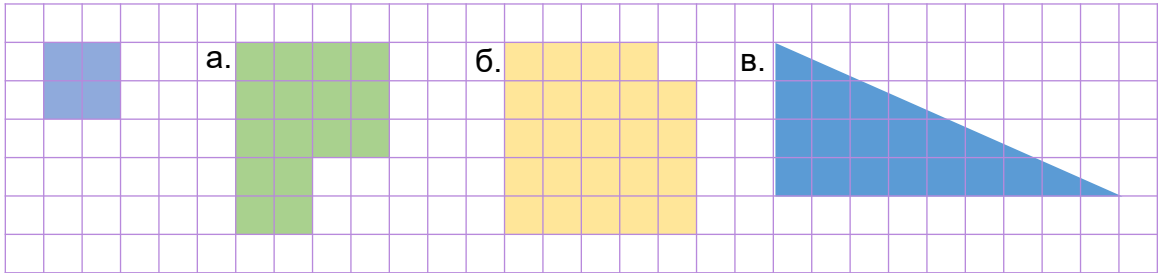
(___ нүд)

б. Дээрх дүрсүүдийн талбайн хэмжээг өсөх эрэмбээр байрлуулсан байна.

Үнэн

Худал

2 Дүрсийн талбайг кв.см нэгжээр илэрхийлээрэй. (4 нүд = 1 см.кв)



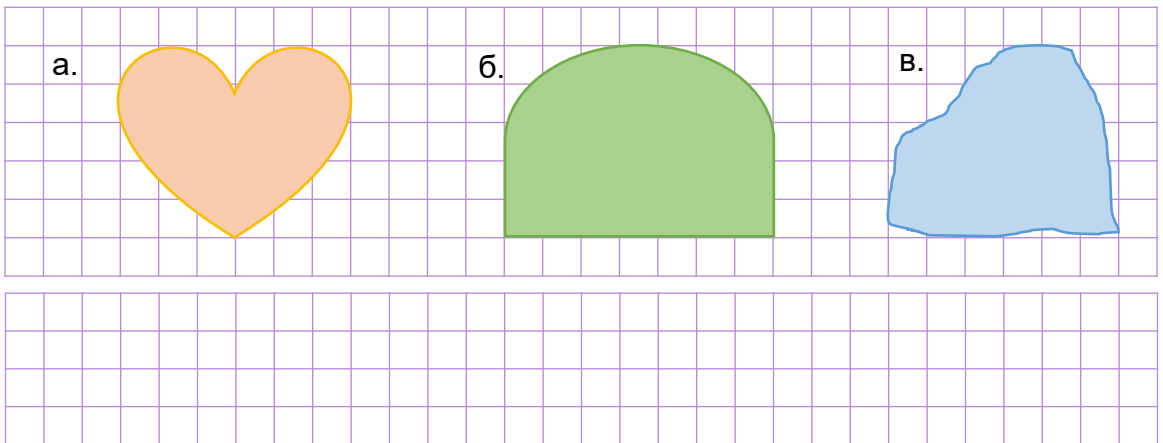
1 см.кв

___ см.кв

___ см.кв

___ см.кв

3 Дүрсийн талбайг нүд тоолох аргаар тооцоолоорой. (палеткийн арга)



Дууссан:сарөдөр



Даалгавар	1	2	3
Өөрийн үнэлгээ			



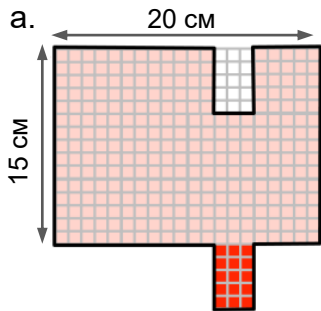
Сурагчийн нэр:

Эхэлсэн: он сар өдөр

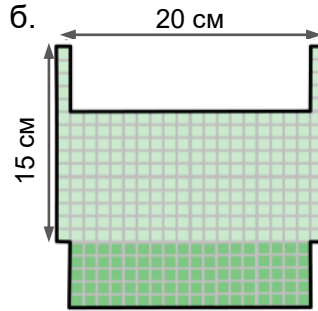


1 см.кв = 10 мм × 10 мм = 100 мм.кв, 1 дм.кв = 10 см × 10 см = 100 см.кв

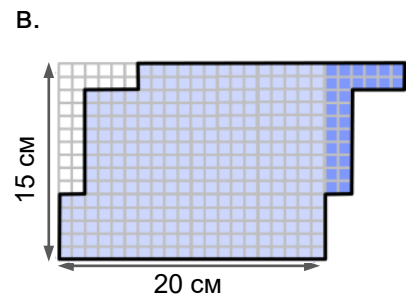
1 Дүрсийн талбайн хэмжээг хялбар аргаар тооцоолоорой. (1 см.кв нэгж)




___ см.кв



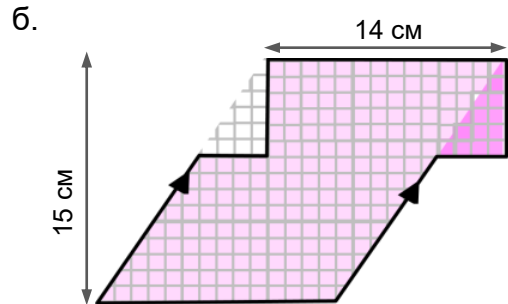
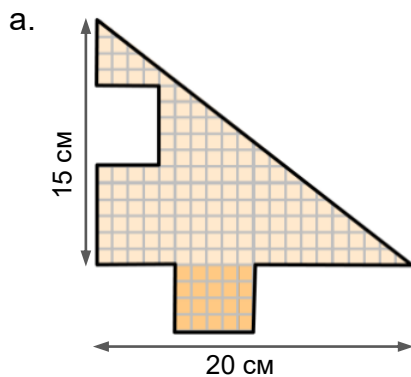
___ см.кв



___ см.кв



2 Дүрсийн талбайн хэмжээг хялбар аргаар тооцоолоорой. (1 см.кв нэгж)



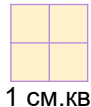
Дууссан:сарөдөр



Даалгавар	1	2
Өөрийн үнэлгээ		

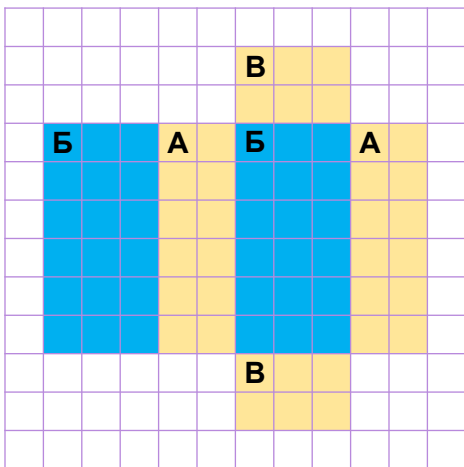
Сурагчийн нэр:

Эхэлсэн: он сар өдөр



- Кубийн дэлгээсийн талбай нь кубийг бүрдүүлэх 6 квадратын талбайн хэмжээтэй тэнцэнэ.
- Параллелепипедийн гадаргуугийн талбай нь түүнийг бүрдүүлэх хос хосоороо тэнцүү 6 тэгш өнцөгтийн талбайн хэмжээтэй тэнцэнэ.

1 Дэлгээсийн талбайн хэмжээг олоорой.



А дүрсүүдийн талбай

--	--	--	--	--	--	--	--	--	--	--	--	--	--	--

Б дүрсүүдийн талбай

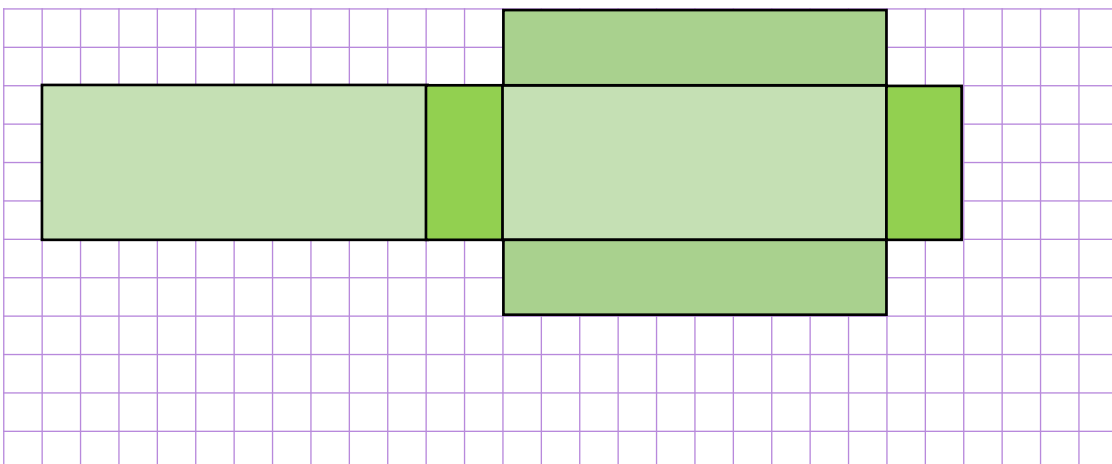
--	--	--	--	--	--	--	--	--	--	--	--	--	--	--

В дүрсүүдийн талбай

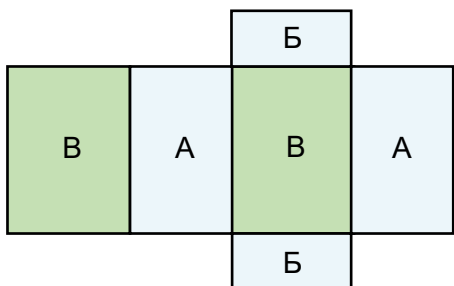
--	--	--	--	--	--	--	--	--	--	--	--	--	--	--

Дэлгээсийн талбай

2 Параллелепипедийн гадаргуугийн талбайн хэмжээг олоорой.



3 Параллелепипедийн гадаргуугийн талбай 42 см.кв. А, Б талсуудын нийт талбайн хэмжээ 28 см.кв бол В талсын талбайн хэмжээг олоорой.



Дууссан:сарөдөр



Даалгавар	1	2	3
Өөрийн үнэлгээ	😊	😊	😊



Сурагчийн нэр:

Эхэлсэн: он сар өдөр



Хэмжээг бүхлээр тоймлохдоо бүхэл тоог тоймлох дүрмээ санаарай.
Жишээлбэл: 2 см 7 мм \approx 3 см

1 Квадратын талбайн хэмжээг олоорой.

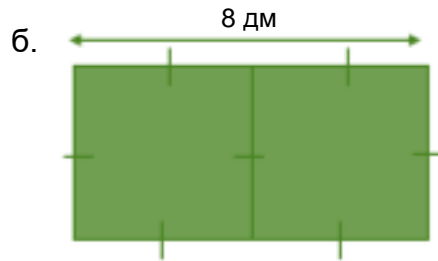

а. $10 \text{ см} \times 10 \text{ см} =$ _____

в. $10 \text{ м} \times 10 \text{ м} =$ _____

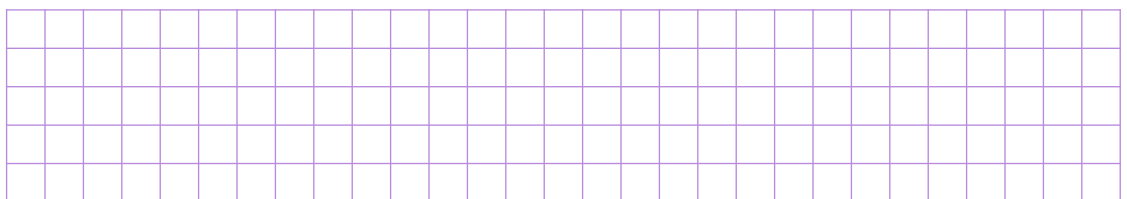
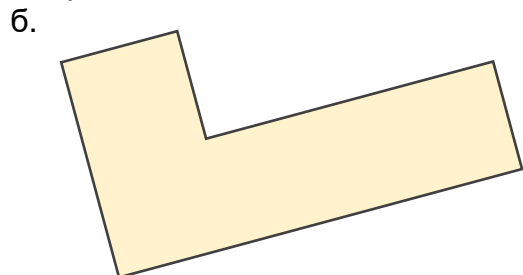
б. $10 \text{ мм} \times 10 \text{ мм} =$ _____

г. $100 \text{ м} \times 100 \text{ м} =$ _____


2 Дүрсийн талбайн хэмжээг тохирох нэгжээр илэрхийлж жишээрэй.



3 Дүрсийн талын уртыг хэмжээрэй. Хэмжээг сантиметрээр тоймлож, талбайн хэмжээг ойролцоогоор тооцоолоорой.



4 Ногооны талбайн урт 12 м, өргөн нь 9 м. Хүүхдийн тоглоомын талбайн хэмжээ түүнээс 8 м.кв-аар бага бол хүүхдийн тоглоомын талбайн урт, өргөн хэдэн метр байх боломжтой вэ?



Дууссан:сарөдөр



Даалгавар	1	2	3	4
Өөрийн үнэлгээ				